



GUÍA DE HISTORIA, GEOGRAFÍA Y CIENCIAS SOCIALES
Unidad nº1: “Nos ubicamos en el espacio”
Guía nº8: “Chile en América del Sur”

Nombre: _____

Curso : 2° _____ Fecha: _____

Objetivo:

Ubicar Chile, Santiago, la propia región y su capital en mapas, y describir la ubicación relativa de países limítrofes y de otros países de América del Sur, utilizando los puntos cardinales.

¿QUÉ DEBO LOGRAR EN ESTA GUÍA?



- Leer y comunicar información geográfica a través mapas distinguiendo la región donde viven y su capital.
- Utilizar los puntos cardinales para describir la ubicación relativa de países de América del Sur con respecto a Chile y limítrofes.

A los padres y apoderados:

Se sugiere acompañar el desarrollo de las guías para así fortalecer y dar confianza al estudiante durante el proceso.

Se solicita, por favor, hacer llegar las guías, cuando se entreguen, en una carpeta o bolsa transparente con los datos del estudiante (nombre, curso, asignatura y profesora)

Frente a cualquier duda o consulta, realizarla a la profesora de asignatura al siguiente correo: profesorajack27@gmail.com

Se agradece desde ya, todo el apoyo entregado a sus hijos (as) durante este periodo excepcional que estamos viviendo.





Hola amiguitas y amiguitos!!! Espero que estén bien junto a toda su familia.

A continuación, vamos a recordar algunas cosas que vimos anteriormente. Les parece?

"Nuestro país en el mapa de América del Sur"

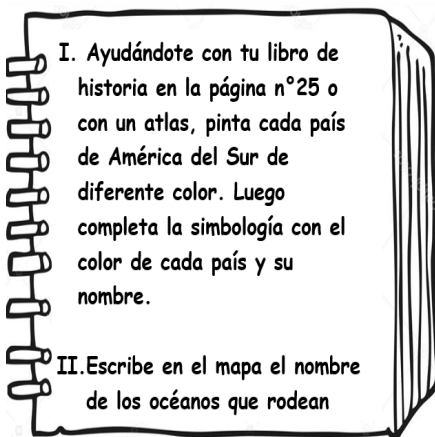
Como aprendiste anteriormente, nuestro país, Chile, está ubicado en el extremo sur del continente americano, lo que conocemos como América del Sur.

El territorio de Chile, en América del Sur, lo puedes observar en el planisferio como una franja larga y angosta. Limita con varios países y tiene una extensa costa, el Océano Pacífico

Chile limita al norte con el Perú, al noreste con Bolivia al este con Argentina, al oeste con el océano Pacífico y al sur con el Océano Austral.



Color	Nombre del país
<input type="checkbox"/>	_____
<input type="checkbox"/>	_____
<input type="checkbox"/>	_____
<input type="checkbox"/>	_____
<input type="checkbox"/>	_____
<input type="checkbox"/>	_____
<input type="checkbox"/>	_____
<input type="checkbox"/>	_____
<input type="checkbox"/>	_____
<input type="checkbox"/>	_____
<input type="checkbox"/>	_____
<input type="checkbox"/>	_____
<input type="checkbox"/>	_____
<input type="checkbox"/>	_____
<input type="checkbox"/>	_____



III. Ahora realiza las siguientes actividades, utilizando los puntos cardinales, en el mapa de América del Sur que acabas de pintar y recuerda que también puedes usar el atlas.

1. ¿Cuáles son los países con los que limita Chile? Escribe sus nombres.

- _____.-
- _____.-
- _____.-

2. Chile limita al norte con: _____.-

3. Chile limita al sur con: _____.-

4. Chile limita al este con: _____.-

5. Chile limita al oeste con: _____.-

6. Al norte de Perú se encuentran: _____.-

7. Al este de Colombia está: _____.-

8. Al sur de Venezuela está: _____.-

9. Paraguay está al norte de: _____.-

10. Uruguay está al este de: _____.-

11. ¿Para qué nos sirven los puntos cardinales?

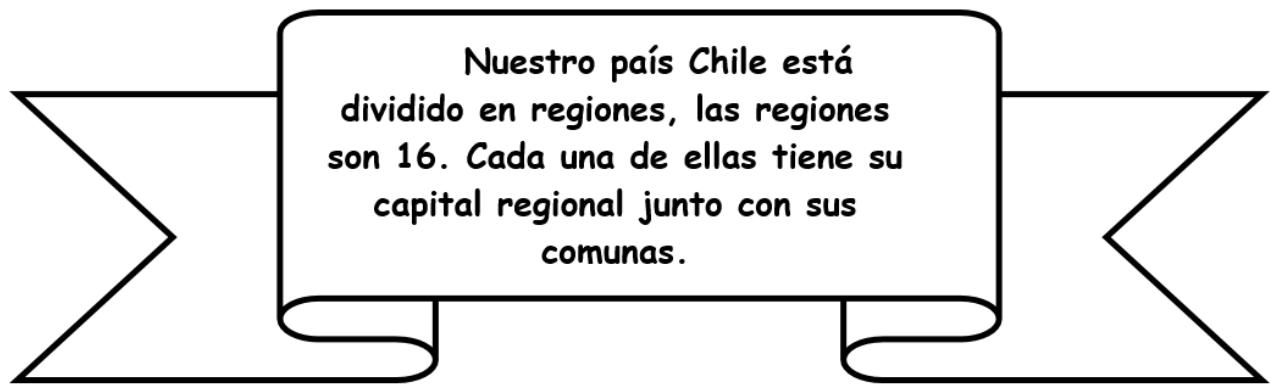
_____.-

12. ¿En qué situaciones pueden usarse?

_____.-

13. ¿Qué pasaría si no existieran puntos cardinales?

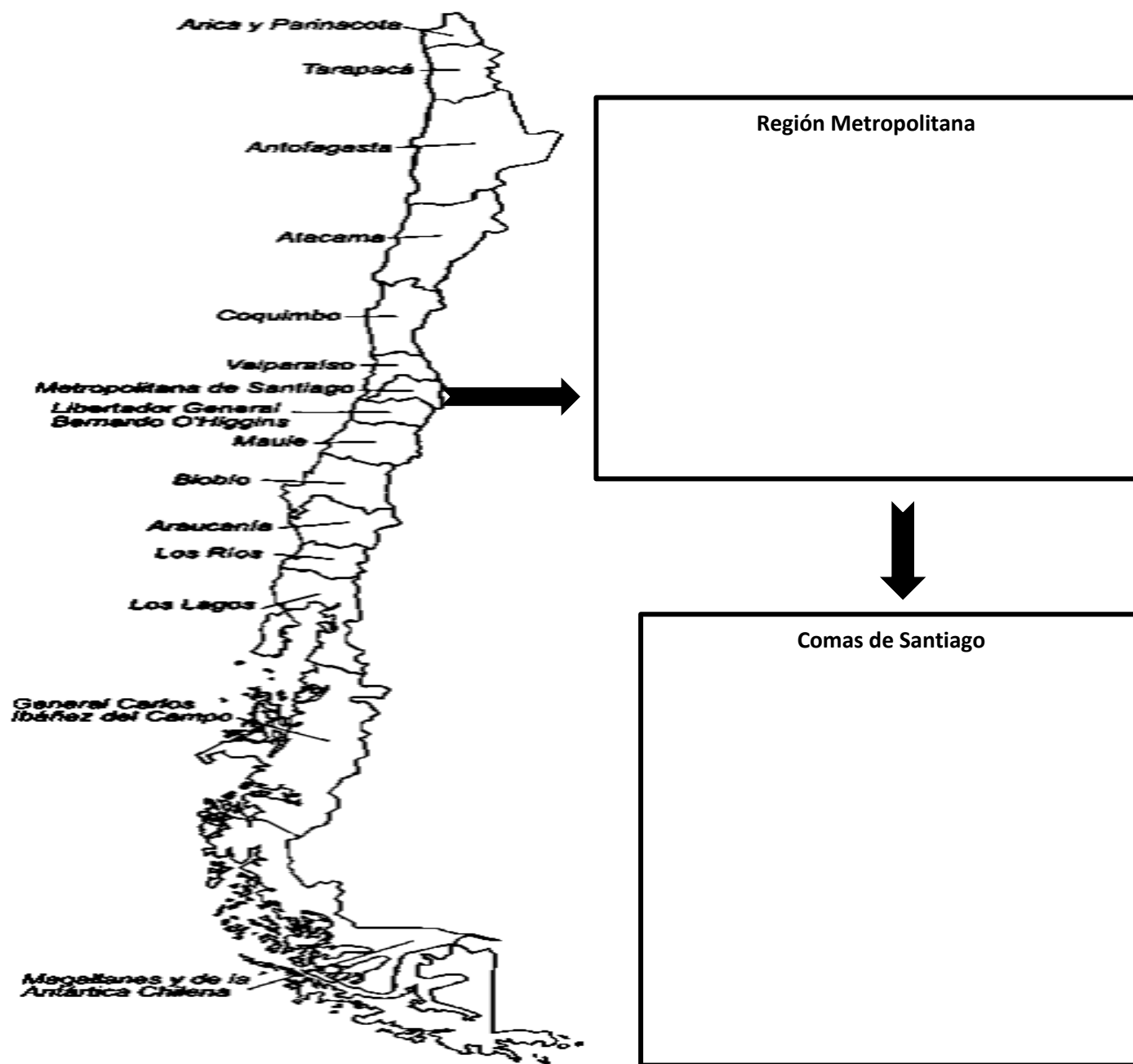
_____.-



IV. Observa el mapa de Chile con sus regiones. Luego realiza las actividades que aparecen a continuación. También puedes ayudarte con tu libro de historia en la página nº26.

1. Dibuja en el primer recuadro del mapa nuestra región en donde vivimos.
2. Pinta de color rojo la capital regional.
3. En segundo recuadro, dibuja las comunas de la ciudad de Santiago y pinta de color verde, nuestra comuna de Lo Espejo.
4. ¿Con qué lugar limita nuestra región por el norte, sur, este y oeste?

5. ¿Qué límite o límites tienen en común todas las regiones del país? Explica.



¿Cómo te resultó esta actividad? Pinta el Emoji que te represente. Si te pareció muy difícil, cuéntame el por qué.



FÁCIL



UN POCO DIFÍCIL



MUY DIFÍCIL
